

第七周全能测试卷

乘法的初步认识 5 的乘法口诀


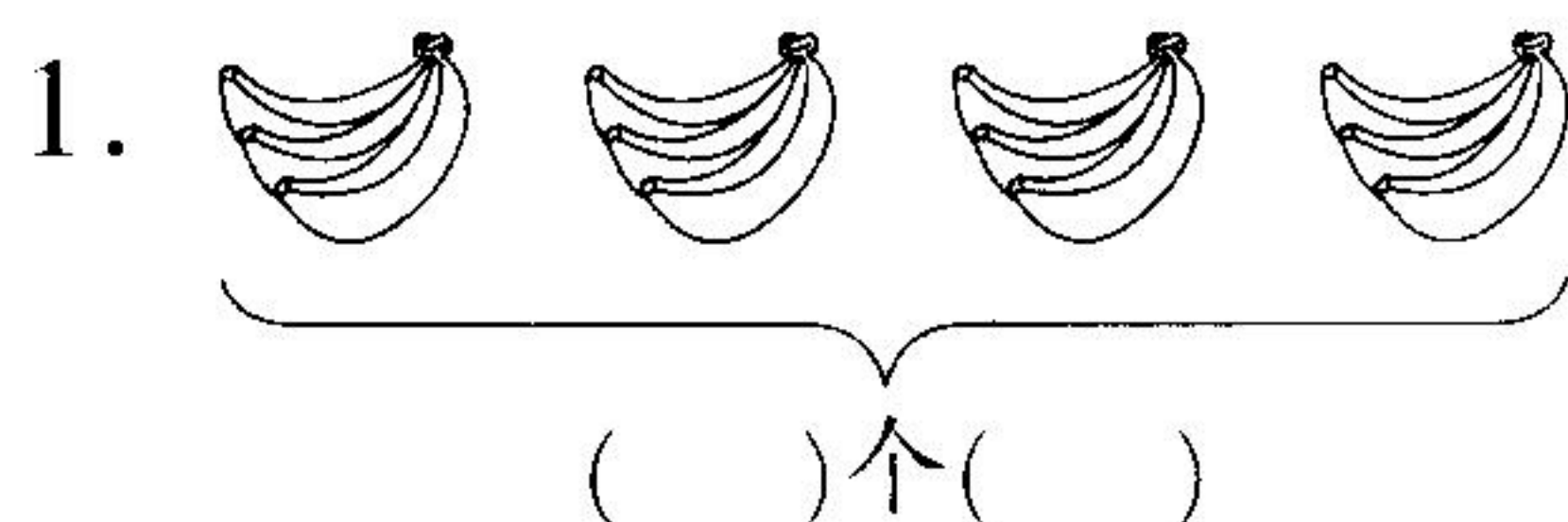
时间:60 分钟

满分:100 分

题号	一	二	三	四	五	六	七	八	九	十	十一	总分
得分												

kàn tú xiě suàn shì

一、看图写算式。(14 分)



加法算式: _____

加法算式: _____ 或 _____

乘法算式: () \times () = () 乘法算式: () \times () = ()

或 () \times () = () 或 () \times () = ()

读作: _____ 或 _____ 读作: _____ 或 _____

kāi dòng nǎo jīn rèn zhēn tián kòng

二、开动脑筋,认真填空。(12 分)

1. 写出乘法算式中各部分的名称。

$$\begin{array}{cc} 2 \times 6 = 12 \\ \vdots \quad \quad \vdots \\ (\quad) (\quad) \end{array}$$

$$\begin{array}{cc} 5 \times 4 = 20 \\ \vdots \quad \quad \vdots \\ (\quad) (\quad) \end{array}$$

2. 6 个 5 相加,写成加法算式是(),乘法算式是()或()。

3. 6 个 2 相加,用乘法算式表示为(),读作()。乘数分别是()和(),积是()。

rèn zhēn sī kǎo zǐ xì pàn duàn

三、认真思考,仔细判断。(8分)

1. $7+7$ 可以写成 7×7 。



()

2. 2个3相加是 $2+3$ 。



()

3. 两个乘数都是5,积是10。



()

4. 5个3相加和3个5相加的结果相同。



()

bǎ jiā fǎ suàn shì gǎi chéng chéng fǎ suàn shì

四、把加法算式改成乘法算式。(8分)

1. $6+6+6+6+6=\square\times\square$ 2. $3+3+3+3=\square\times\square$

3. $8+8+8+8=\square\times\square$ 4. $2+2+2+2=\square\times\square$

bǎ kǒu jué tián wán zhěng

五、把口诀填完整。(6分)

一五()

三()十五

()五一十

()五二十五

()()二十

五()()()

xiě chū chéng fǎ suàn shì

六、写出乘法算式。(6分)

1. $2 + 2 + 2 = 6$

$\square \times \square = \square$

2. $6 + 6 + 6 + 6 + 6 + 6 = 36$

$\square \times \square = \square$

3. 4个5相加等于20。

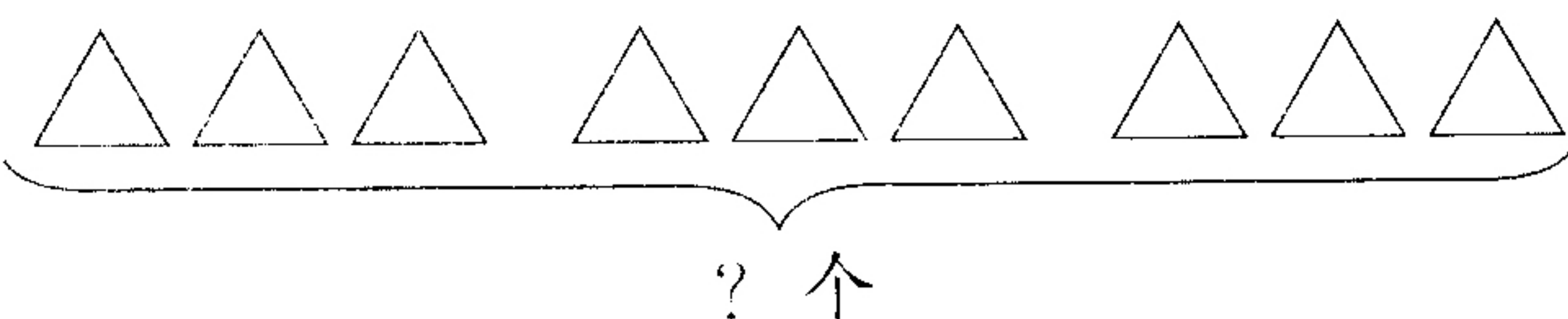
$\square \times \square = \square$

4. 4乘8的积是32。

$\square \times \square = \square$

5. 一个乘数是3,另一个乘数是9,积是27。


$\square \times \square = \square$

6. 

$\square \times \square = \square$

七、在 里填上“>”“<”或“=”。(9分)

5×2  9


$5 + 5 + 5$  15

4×5  18

5×5  26

2×5  $5 + 5$

1×5  $1 + 5$

3×5  5×3

5×4  $5 + 4$

2×5  5×5

lián yì lián

八、连一连。(4分)



4×3

$3 + 3 + 3 + 3 + 3$

$4 + 4 + 4$



7×4



6×4

$6 + 6 + 6 + 6$

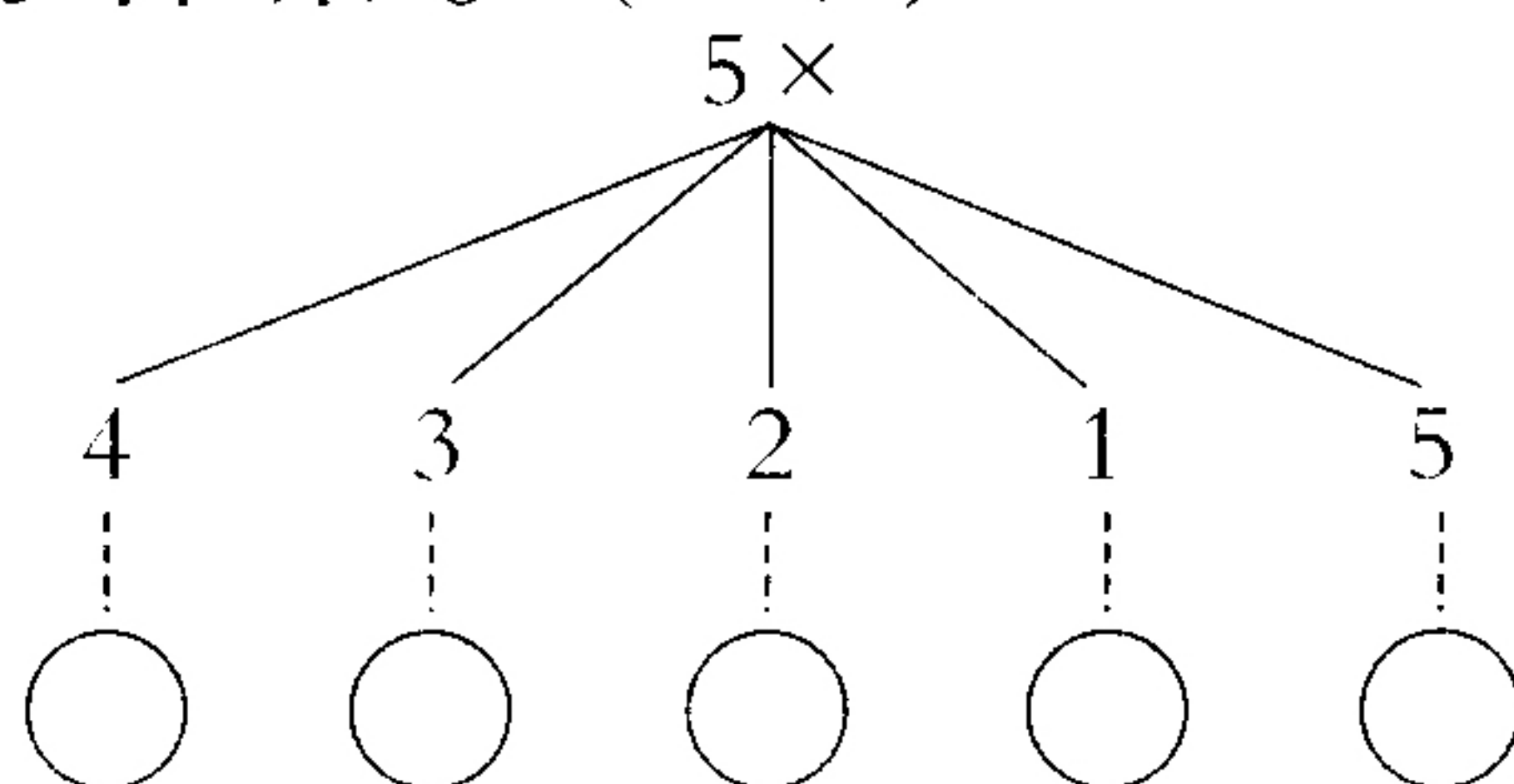
$7 + 7 + 7 + 7$



3×5


xiě chū duì yīng de dá àn

九、写出对应的答案。(5分)



kàn tú liè shì jì suàn

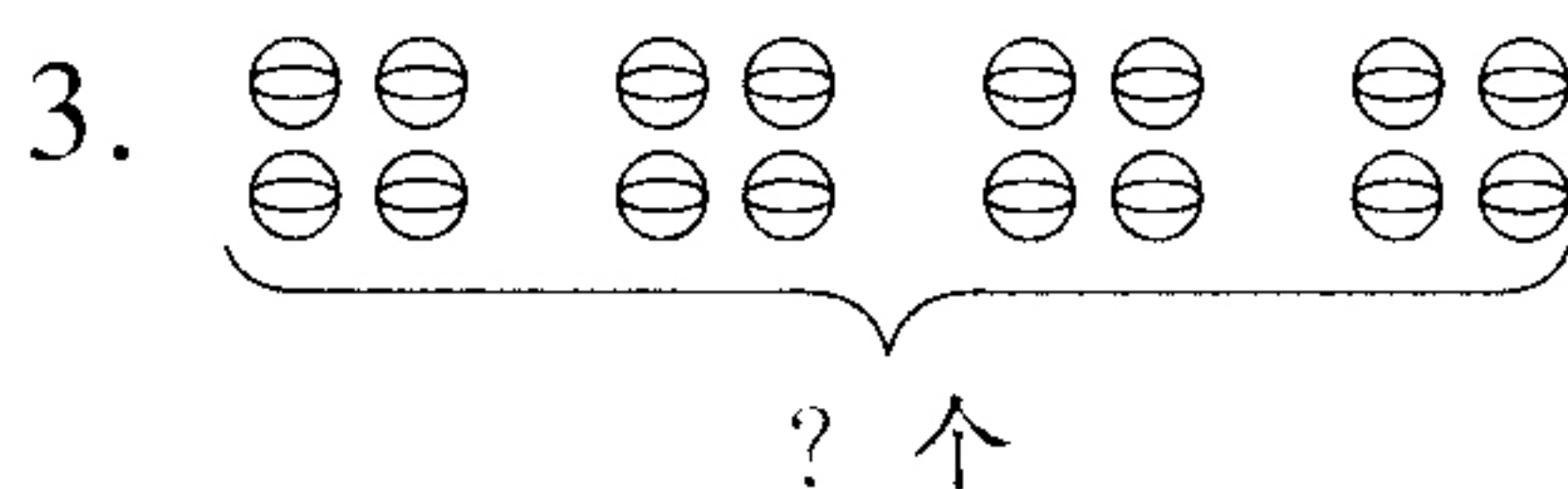
十、看图列式计算。(20分)



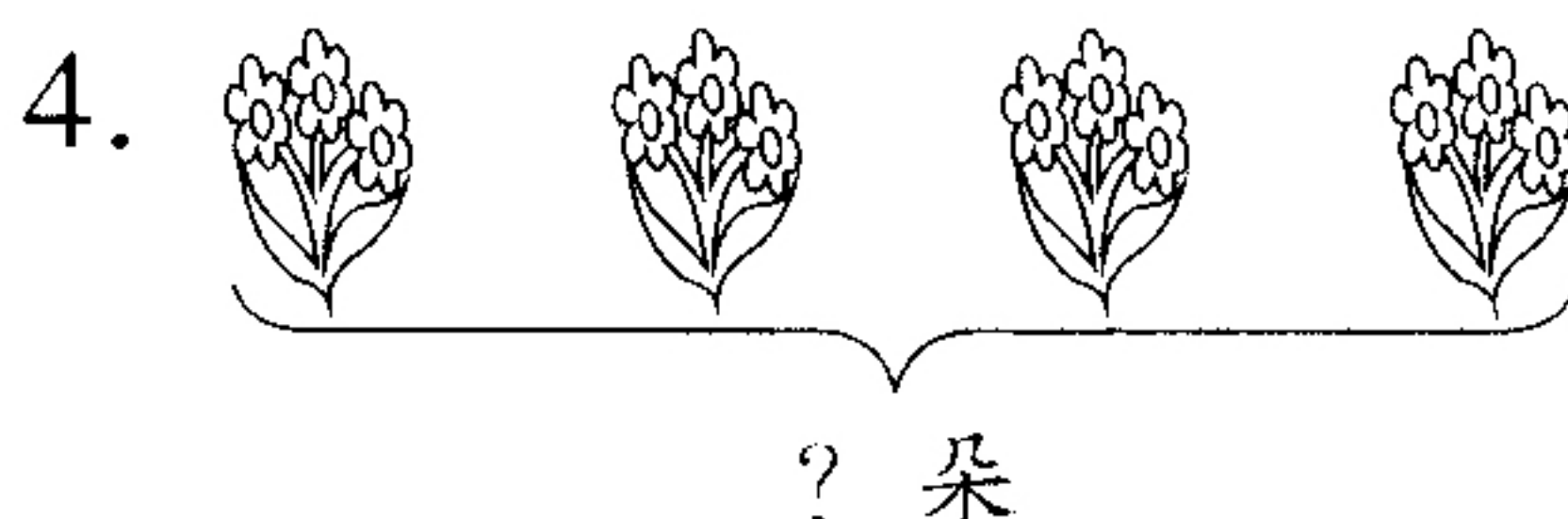
列式: _____
 口诀: _____



列式: _____
 口诀: _____




列式: _____
 口诀: _____



列式: _____
 口诀: _____



一共需要多少钱?



列式: _____

口诀: _____

zhì huì kè táng

十一、智慧课堂。(8分)

$\triangle + \triangle = 6$, $\bigcirc + \bigcirc + \bigcirc + \bigcirc = 20$, $\square \times \bigcirc = 20$
 $\triangle = (\quad)$, $\bigcirc = (\quad)$, $\square = (\quad)$